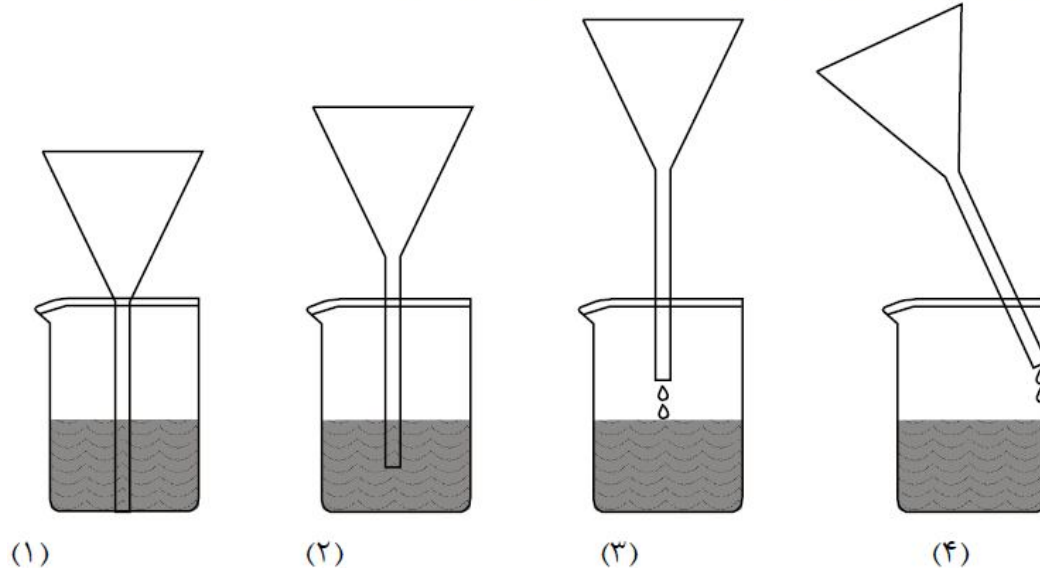


آزمایش های کتاب شیمی سال دوم

کدام از شکل های زیر برای سرعت زیاد در صاف کردن یک محلول مناسب تر است؟

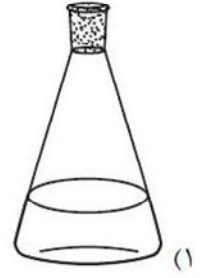




بر روی برجسب ظرف مواد شیمیایی ، درجه خلوص ماده تحت عنوان نوشته شده است .
 الف (assay) ب (sp.gr.) ج (pure) د (d^{25})

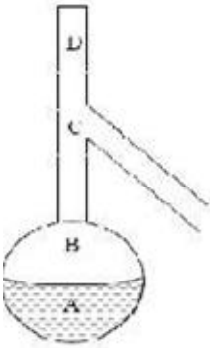
کدام عنصر نسبت به آب چگالی کمتری داشته و روی آب باقی نمی ماند؟

(۱) آلومینیم (۲) لیتیم (۳) گوگرد (۴) ید

ارلن تخلیه کدام وسیله‌ی آزمایشگاهی زیر است؟



در عمل تقطیر قرار گرفتن مخزن دماسنج در کدام یک از نقاط نشان داده شده مناسب تر است؟



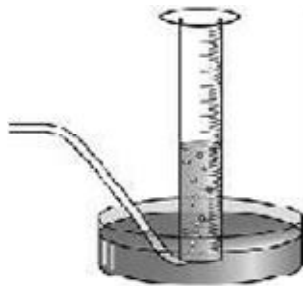
B (۲)

A (۱)

D (۴)

C (۳)

شکل مقابل برای جمع‌آوری کدام گاز مناسب‌تر است؟



SO₂ (۱)

H₂S (۲)

Cl₂ (۳)

O₂ (۴)